


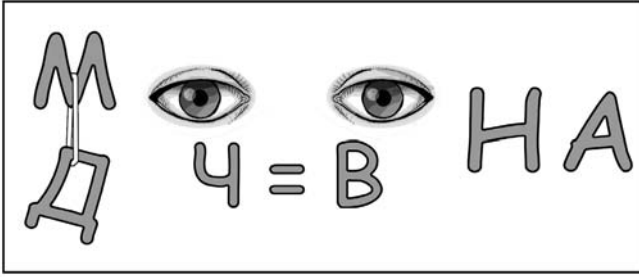
ТРЕЋИ ДЕО

Прилози

ПРИЛОГ 1

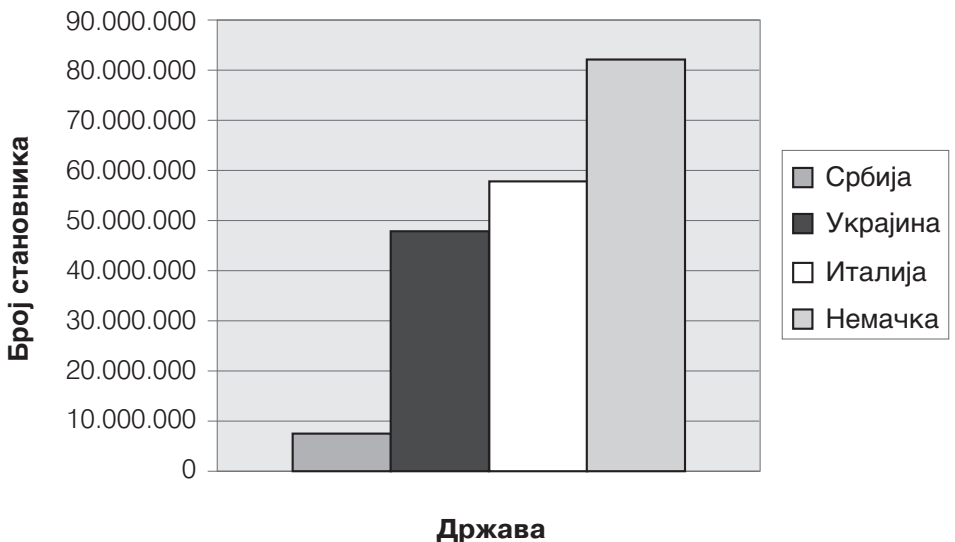
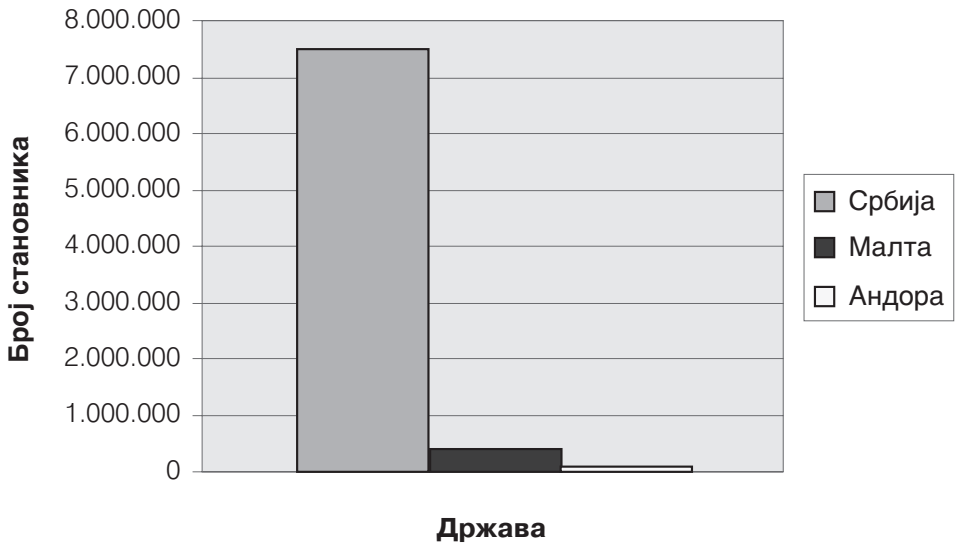


ПРИЛОГ 4



ПРИЛОГ 5

Број становника неких европских држава




ПРИЛОГ 7



ПРИЛОГ 11

Водена укрштеница

1. Место на којем вода излази из земље на површину назива се...
2. Стајаћа слана вода мања од океана
3. Агрегатно стање у којем вода није ни течност ни пара
4. Текућа слатка вода




ПРИЛОГ 12


Бањски лист

Србија је богата термоминералним изворима чије су воде лековите захваљујући њиховој температури, саставу и другим својствима. Бање су богате изворима топлих или хладних минералних вода. Лековита својства термоминералних вода омогућавају лечење различитих болести. Ове изворе проналазили су и у њиховим благодетима уживали још и стари Римљани, који су на извориштима градили купатила. За бање се каже да имају моћ лечења „из чаше, путем купки и ваздухом“. У Србији има преко 1.000 извора хладне и топле минералне воде, а постоје и значајна налазишта природног минералног гаса и лековитог блата. Међу најпознатијим бањама Србије су: Врњачка бања, Сокобања, Врањска бања, бања Русанда, Буковичка бања, Матарушка бања, Селтерс и Богутовачка бања.

ПРИЛОГ 13



ПРИЛОГ 17



ПРИЛОГ 19

Асоцијација

низбрдица

жичара

ски-пас

Скијање

санкање

снешко

бело

Снег

распуст

путовање

уживање


Одмор

ПЛАНИНА

ПРИЛОГ 21

Укрштеница

1. Пада на земљу из облака
2. На њему расту биљке
3. Налази се у три агрегатна стања
4. Згуснута водена пара назива се...
5. Да бисмо знали како да се обучемо, добро је знати колика је напољу...



ПРИЛОГ 25

Пронађите уљеза



хрост



липа



врба



топола








бор

ПРИЛОГ 26



Изглед Земље некад и сад



ПРИЛОГ 28

В








’5


”



””



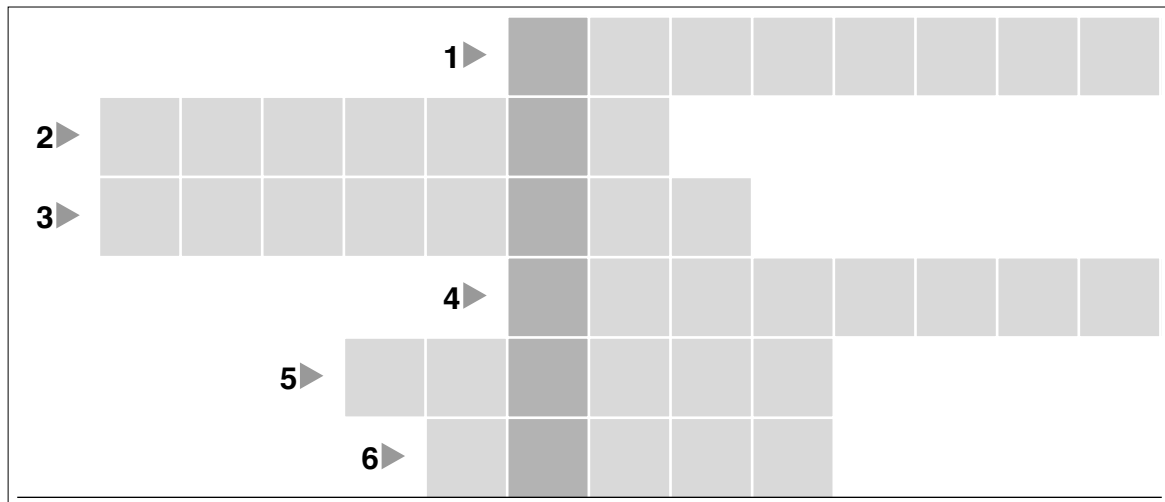




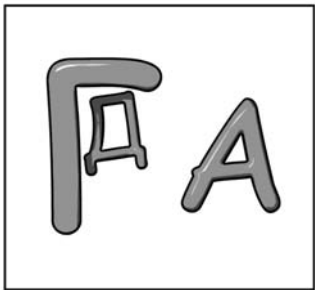
1. Обој у жуто све што се креће у истом смеру.
Заокружи црвеном бојом све што се налази на истом правцу.
2. Заокружи тачне тврдње:
 - а) Бржи је онај ко:
 - за исто време пређе дужи пут краћи пут.
 - исту дужину пута пређе за дуже време краће време.
 - б) Сваки правац има:
 - један смер
 - два смера.
 - в) Ако се двоје налазе на истом правцу:
 - морају ићи у истом смеру
 - не морају ићи у истом смеру.
 - г) Ако двоје иду у истом смеру :
 - морају се налазити на истом правцу
 - не морају се налазити на истом правцу.

Укрштеница

1. Када у соби укључимо светло, упали се _____.
2. Када кува ручак, мама укључи ринглу на _____.
3. Када правимо палачинке, тесто мутимо _____.
4. Раније су собе чишћене метлом, а сада се користи _____.
5. Воду за купање греје _____.
6. Волим да слушам музику и вести, зато имам _____.“



ПРИЛОГ 40



ПРИЛОГ 43

П

Ц
Р



М = Л
